

ФИ _____


Укажи порядок действий и найди значения выражений

$28 + 15 : 5 - 8 =$

- 1) _____
- 2) _____
- 3) _____

$3 * (35 : 7) + 7 =$

- 1) _____
- 2) _____
- 3) _____



$(25 - 10) : 3 + 68 =$

- 1) _____
- 2) _____
- 3) _____

ФИ _____


Укажи порядок действий и найди значения выражений

$28 + 15 : 5 - 8 =$

- 1) _____
- 2) _____
- 3) _____

$3 * (35 : 7) + 7 =$

- 1) _____
- 2) _____
- 3) _____



$(25 - 10) : 3 + 68 =$

- 1) _____
- 2) _____
- 3) _____

ФИ _____


Укажи порядок действий и найди значения выражений

$28 + 15 : 5 - 8 =$

- 1) _____
- 2) _____
- 3) _____

$3 * (35 : 7) + 7 =$

- 1) _____
- 2) _____
- 3) _____



$(25 - 10) : 3 + 68 =$

- 1) _____
- 2) _____
- 3) _____

ФИ _____


Укажи порядок действий и найди значения выражений

$28 + 15 : 5 - 8 =$

- 1) _____
- 2) _____
- 3) _____

$3 * (35 : 7) + 7 =$

- 1) _____
- 2) _____
- 3) _____



$(25 - 10) : 3 + 68 =$

- 1) _____
- 2) _____
- 3) _____

ФИ _____


Укажи порядок действий и найди значения выражений

$28 + 15 : 5 - 8 =$

- 1) _____
- 2) _____
- 3) _____

$3 * (35 : 7) + 7 =$

- 1) _____
- 2) _____
- 3) _____



$(25 - 10) : 3 + 68 =$

- 1) _____
- 2) _____
- 3) _____

ФИ _____


Укажи порядок действий и найди значения выражений

$28 + 15 : 5 - 8 =$

- 1) _____
- 2) _____
- 3) _____

$3 * (35 : 7) + 7 =$

- 1) _____
- 2) _____
- 3) _____



$(25 - 10) : 3 + 68 =$

- 1) _____
- 2) _____
- 3) _____

ФИ _____


Укажи порядок действий и найди значения выражений

$28 + 15 : 5 - 8 =$

- 1) _____
- 2) _____
- 3) _____

$3 * (35 : 7) + 7 =$

- 1) _____
- 2) _____
- 3) _____



$(25 - 10) : 3 + 68 =$

- 1) _____
- 2) _____
- 3) _____

ФИ _____


Укажи порядок действий и найди значения выражений

$28 + 15 : 5 - 8 =$

- 1) _____
- 2) _____
- 3) _____

$3 * (35 : 7) + 7 =$

- 1) _____
- 2) _____
- 3) _____



$(25 - 10) : 3 + 68 =$

- 1) _____
- 2) _____
- 3) _____